

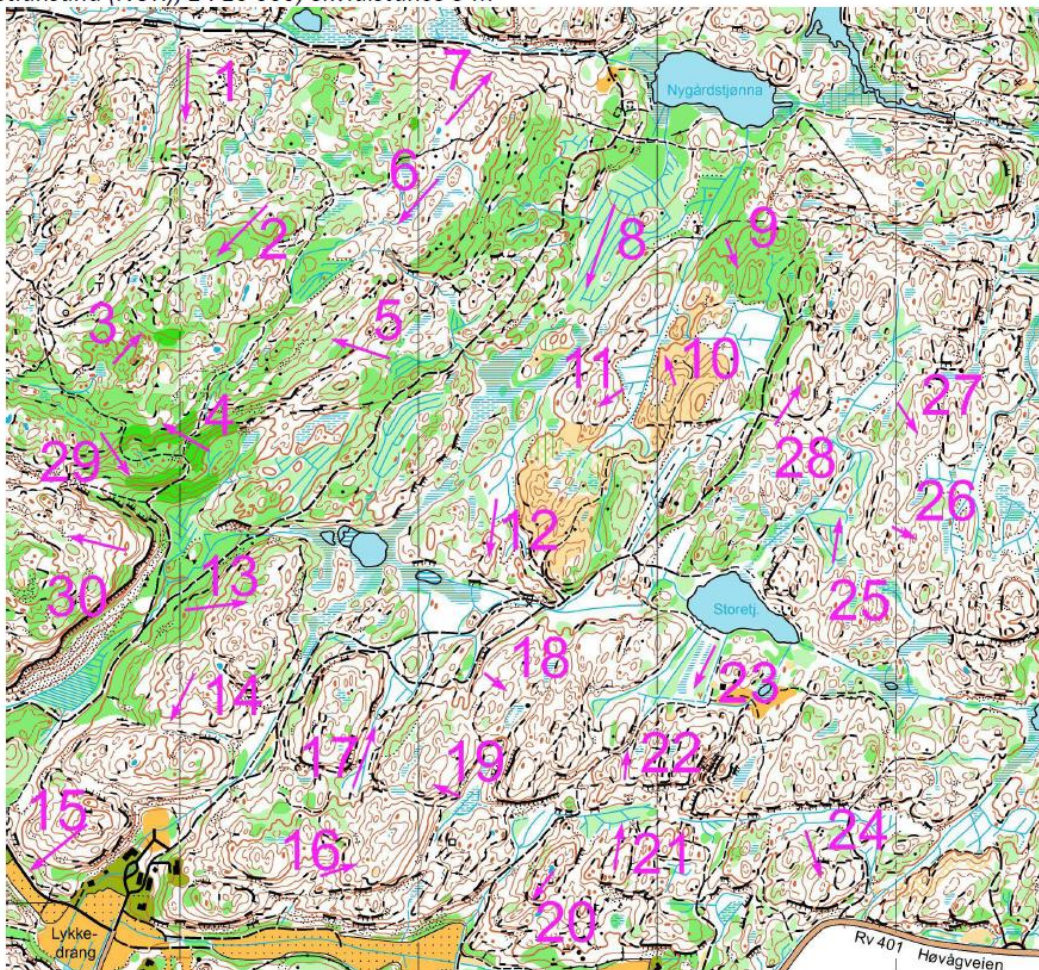
# Mapová teorie 2019/20

## 01/ dorost+



1. Pro každou šipku urči, zda ukazuje nahoru (N), dolů (D), nebo po rovině (R).

*Kristiansand (NOR), 1 : 10 000, ekvidistance 5 m*



2. Během 15 s si najdi vhodný postup a zapamatuj si na něm klíčové body pro realizaci. Poté otoč list a do příslušného políčka zakresli své klíčové body.

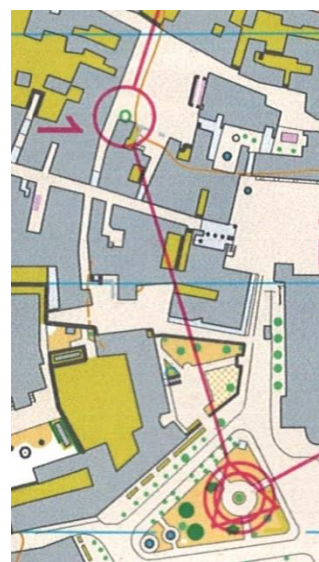
a) Koper (SLO), k15-k16




b) Stará Bystrc, k5-k6



c) Piran (SLO), S-k1




a)



b)




c)



3. Zjednoduř následující postupy. Vyber si pouze nejdůležitější objekty, sestav si plán postupu a nezapomeň na jasný bod pro dohledávku.

*Kozí kameny (ČR) S-k1*



*Kozí kameny (ČR) k5-k6*

