
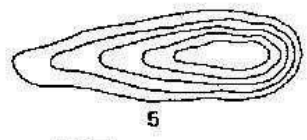
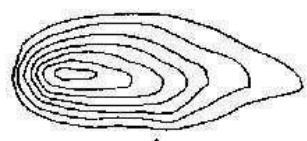
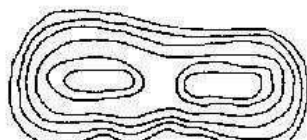
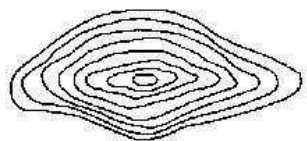
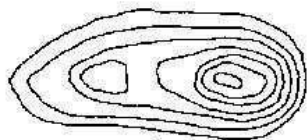
















ŽÁCI 2

1. Spoj dvojice.



2. Poznej mapové piktogramy.

3. Urči, kterým směrem ukazují šipky („D“ = dolů, „N“ = nahoru) a světovým směrem („S“ = sever, „SV“ = severovýchod, „V“ = východ, „JV“ = jihovýchod, „J“ = jih, „JZ“ = jihozápad, „Z“ = západ, „SZ“ = severozápad).

Drábovna, 1 : 10 000, ekvidistance 5m



	1	2	3	4	5	6	7	8	9	10	11	12	13	14	15
D/N															
směr															