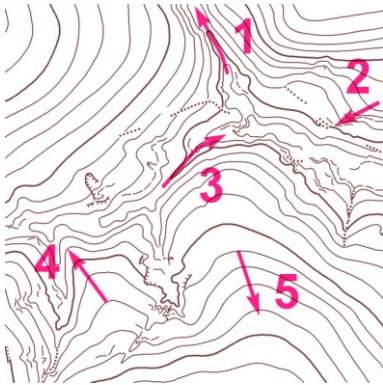
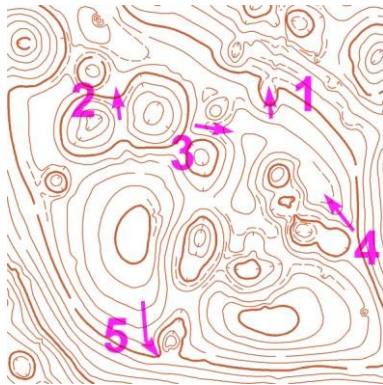


ŽÁCI 2

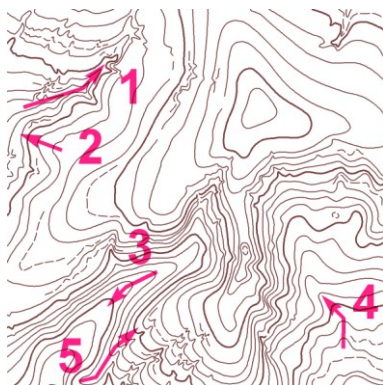
1. V tabulce vyplň, zda šipka označuje hřbet (H) nebo údolí (U);
označ šipkami ↑, ↓ - stoupání nebo klesání:



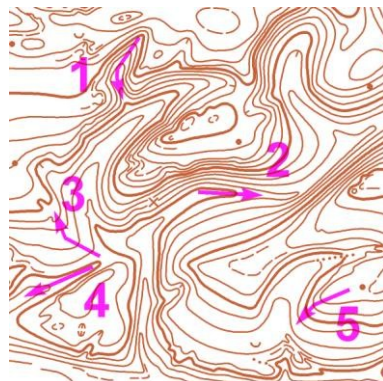
	1	2	3	4	5
H / U					
↑ / ↓					



	1	2	3	4	5
H / U					
↑ / ↓					



	1	2	3	4	5
H / U					
↑ / ↓					



	1	2	3	4	5
H / U					
↑ / ↓					

2. Nakreslete jedním tahem svůj postup a popiště, co v kterou chvíli budete dělat.
Velká Baba, 1 : 10 000, ekvidistance 5 m

